

Time: 10 Minutes

Paper Math 4

Total Marks: 10

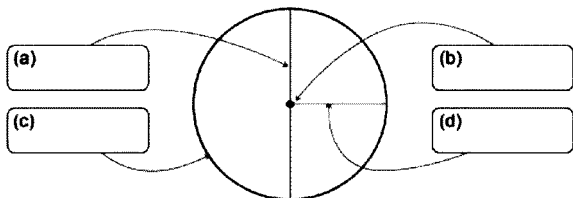
6th Month, 3rd Week, 3rd Day

Syllabus: Unit 6: Review Ex 5, 6

Q.No.1. Label the circle:

(5)

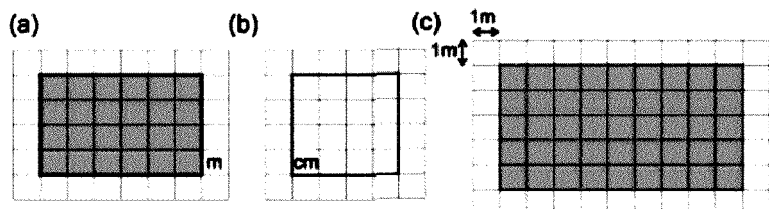
سوال نمبر 1: دائرے کو لیبل کریں:



Q.No.2. Find the perimeter and area if the given figure.

(5)

سوال نمبر 1: دی گئی شکل کا احاطہ اور رقبہ معلوم کریں:



Time: 10 Minutes

Paper Math 4

Total Marks: 10

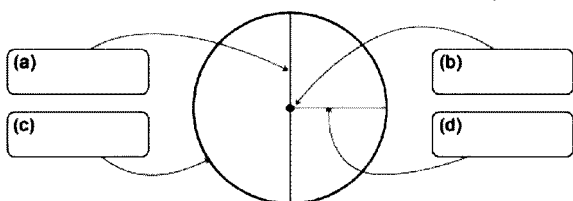
6th Month, 3rd Week, 3rd Day

Syllabus: Unit 6: Review Ex 5, 6

Q.No.1. Label the circle:

(5)

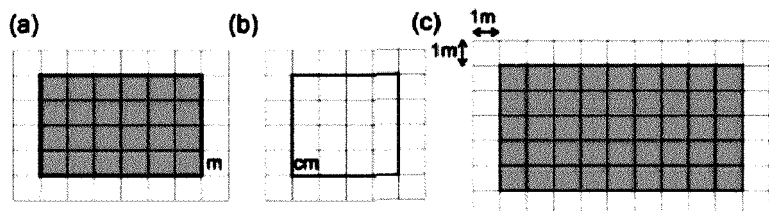
سوال نمبر 1: دائرے کو لیبل کریں:



Q.No.2. Find the perimeter and area if the given figure.

(5)

سوال نمبر 1: دی گئی شکل کا احاطہ اور رقبہ معلوم کریں:



Time: 10 Minutes

Paper Math 4

Total Marks: 10

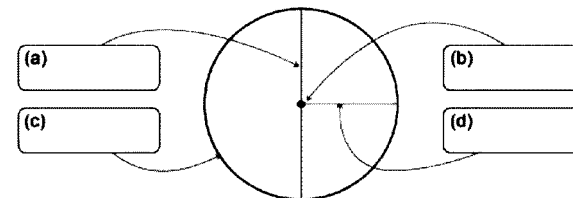
6th Month, 3rd Week, 3rd Day

Syllabus: Unit 6: Review Ex 5, 6

Q.No.1. Label the circle:

(5)

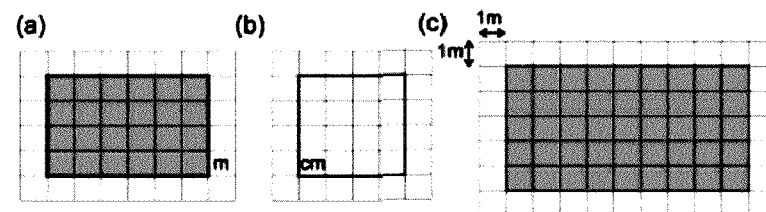
سوال نمبر 1: دائرے کو لیبل کریں:



Q.No.2. Find the perimeter and area if the given figure.

(5)

سوال نمبر 1: دی گئی شکل کا احاطہ اور رقبہ معلوم کریں:



Time: 10 Minutes

Paper Math 4

Total Marks: 10

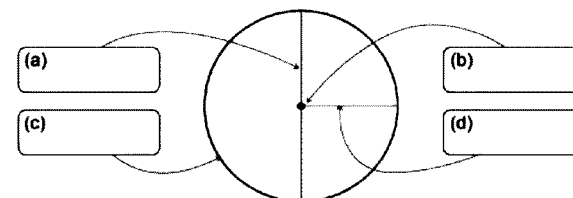
6th Month, 3rd Week, 3rd Day

Syllabus: Unit 6: Review Ex 5, 6

Q.No.1. Label the circle:

(5)

سوال نمبر 1: دائرے کو لیبل کریں:



Q.No.2. Find the perimeter and area if the given figure.

(5)

سوال نمبر 1: دی گئی شکل کا احاطہ اور رقبہ معلوم کریں:

